

الجمهورية الجزائرية الديمقراطية الشعبية

وزارة التربية الوطنية

مؤسسة التربية و التعليم الخاصة **سليم**

ETABLISSEMENT PRIVE D'EDUCATION ET D'ENSEIGNEMENT SALIM



www.ets-salim.com



021 87 10 51



021 87 16 89



Hai Galloul - bordj el-bahri alger

رخصة فتح رقم 1088 بتاريخ 30 جانفي 2011

مخضيري- ابتدائي- متوسط - ثانوي

إعتماد رقم 67 بتاريخ 06 سبتمبر 2010

جانفي 2014

المستوى الأول ابتدائي 1AP

الإختبار رقم 1 للفصل الثاني في مادة الرياضيات

النشاط 1

ارتب الأعداد التالية ترتيبا تنازليا

4 - 10 - 7 - 9 - 1 - 2 - 5

النشاط 2

اكتب العدد الذي يسبق و العدد الذي يلي:

8		
---	--	--

		10
--	--	----

	9	
--	---	--

	7	
--	---	--

النشاط 3:

ألاحظ ثم أصل

$$5+1$$

$$10$$

$$3+3$$

$$4+4$$

$$6$$

$$6+2$$

$$9+1$$

$$8$$

$$5+5$$

إقلب الورقة

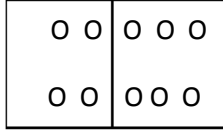
الصفحة 2/1

حي قعلول - برج البحري - الجزائر

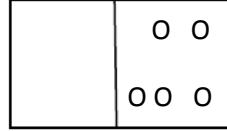
Web site : www.ets-salim.com /021.87.16.89 : الفاكس : 021.87.10.51 : ☎

النشاط 4:

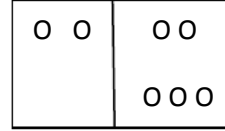
أكتب الأعداد واحسب المجاميع



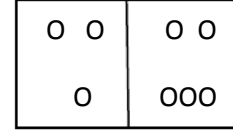
$4 + . = \square$



$. + . = \square 5$



$. + 5 = \square$




$3 + . = \square$

النشاط 5:


أجمّع بالعشرات و أكمل




العشرات	الوحدات
1	



العشرات	الوحدات
	4



العشرات	الوحدات



الجمهورية الجزائرية الديمقراطية الشعبية

وزارة التربية الوطنية

مؤسسة التربية و التعليم الخاصة **سليم**

ETABLISSEMENT PRIVE D'EDUCATION ET D'ENSEIGNEMENT **SALIM**

www.ets-salim.com 021 87 10 51 021 87 16 89 Hai Galloul - bordj el-bahri alger

رخصة فتح رقم 1088 بتاريخ 30 جانفي 2011

مخبري- ابتدائي- متوسط - ثانوي

إعتماد رقم 67 بتاريخ 06 سبتمبر 2010

جانفي 2014

المستوى الأول ابتدائي 1AP

تصحيح الإختبار رقم 1 للفصل الثاني في مادة الرياضيات

النشاط 1

ارتب الأعداد التالية ترتيبا تنازليا

4 - 10 - 7 - 9 - 1 - 2 - 5

10 - 9 - 7 - 5 - 4 - 2 - 1

النشاط 2

اكتب العدد الذي يسبق و العدد الذي يلي:

8	9	10
---	---	----

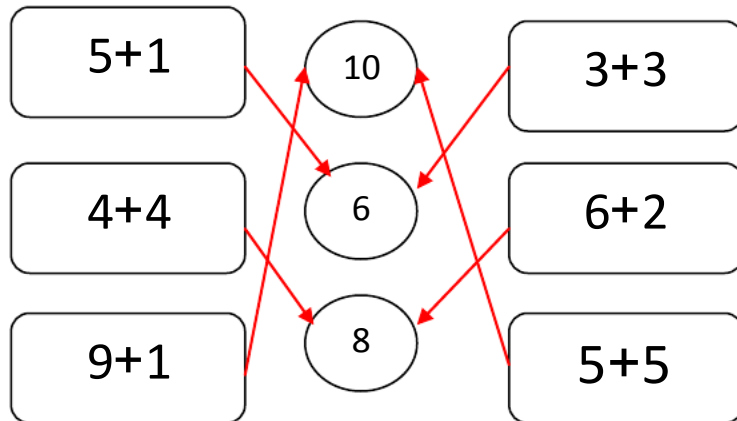
8	9	10
---	---	----

8	9	10
---	---	----

6	7	8
---	---	---

النشاط 3

ألاحظ ثم أصل



إقلب الورقة

الصفحة 2/1

حي قعلول - برج البحري - الجزائر

Web site : www.ets-salim.com /021.87.16.89 :الفاكس : 021.87.10.51 :Tel-Fax

النشاط 4:

أكتب الأعداد و احسب المجاميع

0 0	0 0 0
0 0	0 0 0

$4 + 6 = 10$

	0 0
	0 0 0

$0 + 5 = 5$

0 0	0 0
	0 0 0


$2 + 5 = 7$

0 0	0 0
0	0 0 0


$3 + 5 = 8$

النشاط 5:

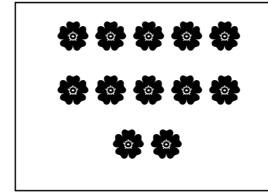
أجمع بالعشرات و أكمل



العشرات	الوحدات
1	0



العشرات	الوحدات
1	4



العشرات	الوحدات
1	2

بالتوفيق

الصفحة 2/2

حي قعلول - برج البحري - الجزائر

Web site : www.ets-salim.com /021.87.16.89 : الفاكس : Tel-Fax : 021.87.10.51 : ☎