

اختبار الفصل الثاني في مادة التكنولوجيا - اقتصاد -

الجزء الأول (06 ن)

1. ضع علامة X في الخانة المناسبة

حسب معيار النشاط			حسب المعيار القانوني			
خدمية	تجارية	انتاجية	مختلطة	خاصة	عامة	
		X	X			مؤسسة سوناطراك
X					X	مؤسسة السريع الوطنية للنقل البري
	X			X		مركز تسوق ابو اياد
		X			X	مؤسسة الاسمنت بتبسة
X					X	الخطوط الجوية الجزائرية
X					X	بنك التنمية المحلية

الجزء الثاني: (06 ن)

أ- قامت مؤسسة النجاح الانتاجية المتخصصة في إنتاج مآزر الاطفال بعمليات التالية خلال شهر جانفي 2020

1. اشترت ماقيمته 60000 دج مواد اولية من المورد علي
2. باعت 6000 علبة ب 25 دج للعبة لزبون مؤسسة الأمل التجارية
3. دفعت 35000 دج لمؤسسة الصيانة من اجل اصلاح عطب آلة انتاجية

ب- مؤسسة النجاح تتكون من المديرية العامة و من المصالح التالية:

- مصلحة التمويل، مصلحة الشراء، مصلحة الإنتاج، مصلحة التوزيع
- و أن مصلحة الإنتاج تتكون من ورشتين هما ورشة التفصيل و ورشة الخياطة
- أما مصلحة التوزيع فتضم مصلحتين هما مصلحة البيع و مصلحة ما بعد البيع

العمل المطلوب

1. حدد مفهوم ماتحته خط
2. ضع مخطط لكل عملية توضح فيه نوع التدفقات التي تمت بين مؤسسة النجاح ومتعاملها
3. انجز الهيكل الوظيفي لمؤسسة النجاح

.....

.....

.....

.....

.....

.....

.....

.....



قامت " مؤسسة النجاح " بعملية جرد ممتلكات احد موظفيها قبل تعيينه مديرا لمؤسستها بتاريخ 2019/05/01 فوجدت ما يلي:

- لـ منزل قيمته دج.
- لـ سيارة قيمتها 65000 دج.
- لـ مبلغ في صندوق التوفير و الاحتياط 15000 دج.
- لـ دين عليه تسديده لأحد التجار الذي باع له أدوات كهرومنزلية بمبلغ 50000 دج.
- لـ أثاث المنزل قيمته 160000 دج.
- لـ حاسوب اشتراه بالتقسيط بمبلغ 60000 دج , دفع ثلث المبلغ
- لـ قرض من احد البنوك لتمويل عملية بناء مسكن فردي بلغ القرض 20000 دج.
- لـ الأرض قيمتها 4000000 دج.
- لـ قدرت الكتب التي توجد في مكتبته الشخصية بمبلغ 70000 دج.

المطلوب

- (1) بعد تحديد مفهوم الذمة المالية قم بتحدد عناصرها في جدول ،
- (2) إذا علمت أن صافي الذمة المالية لهذا المدير هو 5460000 دج فما هي قيمة المنزل ؟

التصحيح النموذجي اختبار الفصل الثاني في مادة التكنولوجيا - اقتصاد -

الجزء الأول (06 ن)

2. ضع علامة X في الخانة المناسبة

حسب معيار النشاط			حسب المعيار القانوني			
خدمية	تجارية	انتاجية	مختلطة	خاصة	عامة	
		X	X			مؤسسة سوناطراك
X					X	مؤسسة السريع الوطنية للنقل البري
	X			X		مركز تسوق ابو اياد
		X			X	مؤسسة الاسمنت بتبسة
X					X	الخطوط الجوية الجزائرية
X					X	بنك التنمية المحلية

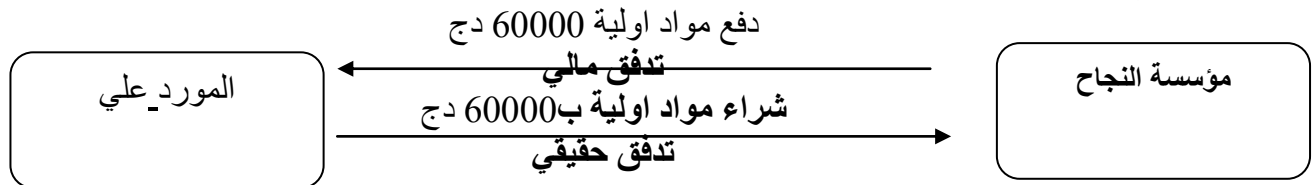
الجزء الثاني: (06 ن)

1- تحديد مفهوم ما تحته خط

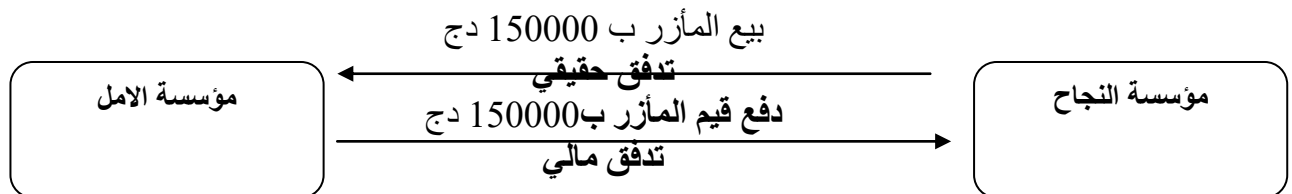
الموردون: هم الأشخاص الذين تشتري منهم المؤسسة مختلف احتياجاتها من سلع أو خدمات.
الزبائن: هم الأشخاص الذين تباع لهم المؤسسة منتجاتها أو السلع أو تقدم لهم خدماتها.

2- مخطط التدفقات للعمليات الاقتصادية

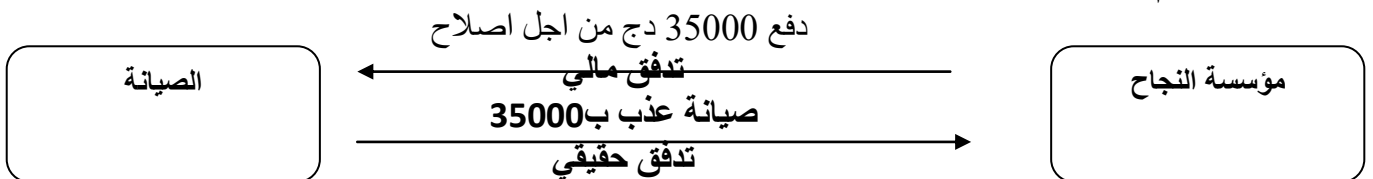
العملية رقم 1



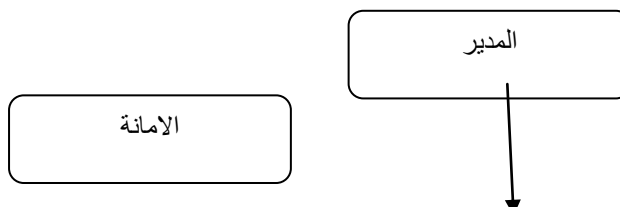
العملية رقم 2

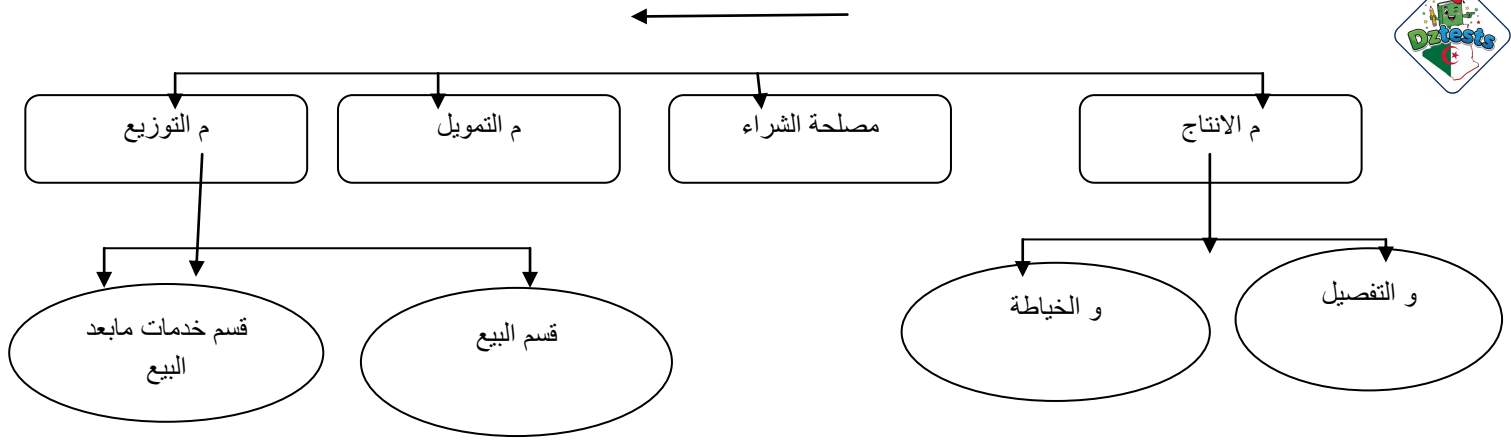


العملية رقم 3



3- الهيكل الوظيفي لمؤسسة النجاح





الجزء الثالث (08 ن)

1- تعريف الذمة المالية:

هي مجموع ما يمتلكه الشخص وما عليه من ديون. ممتلكات الشخص هي العناصر الايجابية وديونه هي العناصر السلبية.

2- حساب قيمة المنزل

الممتلكات	المبالغ	الديون	المبالغ
- منزل؟	- دين عليه تسديده	50000
- سيارة	- دين متبقي من	40000
- مبلغ في الصندوق	65000	الحاسوب	20000
- حاسوب	15000	- قرض من احد البنوك	
- أراضي	60000		
- الكتب	4000000		
- أثاث منزل	70000		
	160000		
المجموع	5505000 دج + x	المجموع	110000

حساب قيمة المنزل: نرسم لمبلغ السيارة ب x

صافي الذمة المالية = مجموع الممتلكات - مجموع الديون

$$110000 - (x + 4370000) = 5460000$$

$$4260000 + x = 5460000$$

$$X = 1200000 \text{ دج}$$