

المادة: الرياضيات
المستوى: الأولى ابتدائي

الاسم واللقب:
التاريخ: 2021/11/29

اختبار الفصل الأول

التمرين الأول:

أُكْمِلُ الشَّرِيْطَ العَدَدِيَّ

→	0	6	10
---	---	-------	-------	-------	-------	-------	---	-------	-------	-------	----

التمرين الثاني:

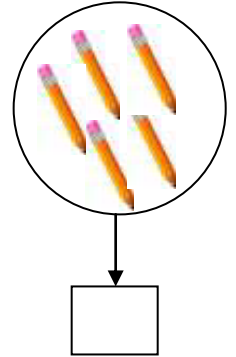
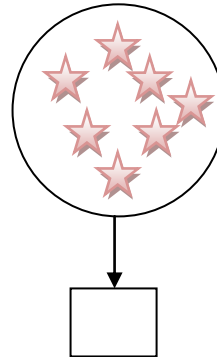
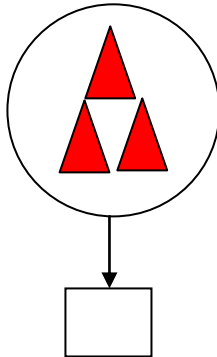
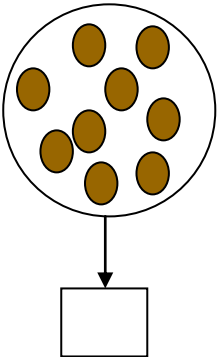
أُكْمِلُ العَدَدَ النَّاْقِصَ

→	2	→	3	→	5
→	6	→	7	→	9



التمرين الثالث:

أَحْصُبُ وَأُكْمِلُ بِالْعَدَدِ الْمُنَاسِبِ



التّمرين الرَّابِع:

أُلَوِّنُ البِطَاقَةَ المُنَاسِبَةَ

5	أكبر من	5
	أصغر من	
	تساوي	

9	أكبر من	6
	أصغر من	
	تساوي	

5	أكبر من	8
	أصغر من	
	تساوي	




التّمرين الخامس:

أُنْجِزُ العَمَلِيَّاتِ

$5+3=$	$4+4=$	$3+6=$	$0+3=$
--------------	--------------	--------------	--------------

(0.5 علامة لنظافة الورقة)



المادة: الرياضيات
المستوى: الأولى ابتدائي

الاسم واللقب:
التاريخ: 2021/11/29

تصحيح اختبار الفصل الأول

التمرين الأول:

أكمل الشريط العددي

→	0	1	2	3	4	5	6	7	8	9	10
---	---	---	---	---	---	---	---	---	---	---	----

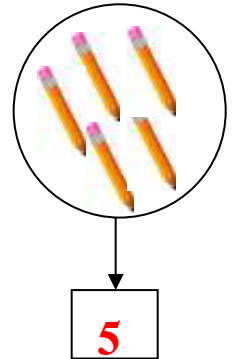
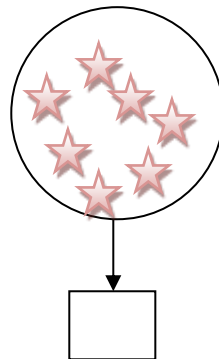
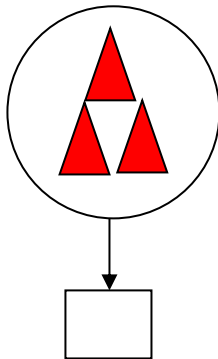
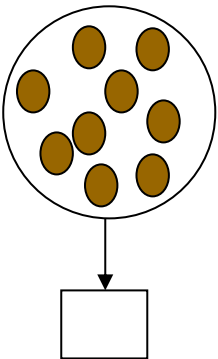
التمرين الثاني:

أكمل العدد الناقص

→	1	2	3	→	3	4	5	→	4	5	6
→	4	5	6	→	6	7	8	→	8	9	10

التمرين الثالث:

أحسب وأكمل بالعدد المناسب



التّمرين الرَّابِع:

ألَوْنُ البِطَاقَةِ المُنَاسِبَةِ

5	أكبر من	5
	أصغر من	
	تساوي	

9	أكبر من	6
	أصغر من	
	تساوي	

5	أكبر من	8
	أصغر من	
	تساوي	

التّمرين الخَامِس:

أُنْجِزُ العَمَلِيَّاتِ

$5+3=8$	$4+4=8$	$3+6=8$	$0+3=8$
---------	---------	---------	---------

(0.5 علامة لنظافة الورقة)

