

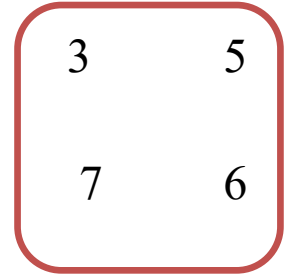
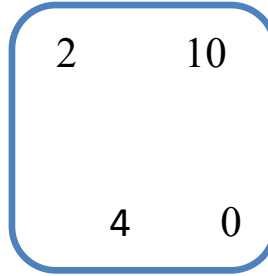
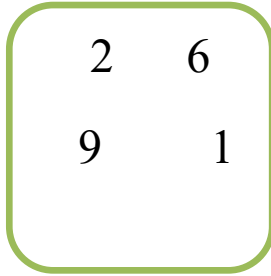


نوفمبر 2022

المستوى: الأول ابتدائي (1AP)

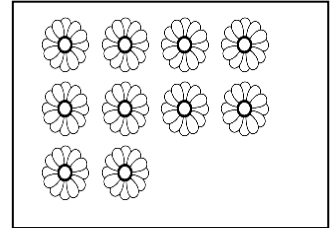
الفرض الأول في مادة الرياضيات (م2)

التمرين 01: أحيط أكبر عدد في كل مجموعة:

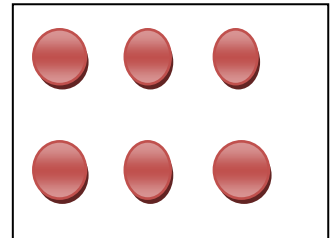


التمرين 02: أعد ثم أصل مع ما يناسب.


5



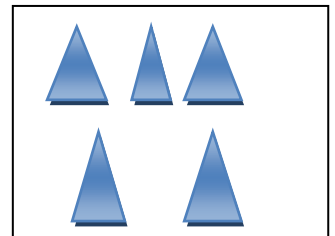
8



10







6



التمرين 03: أَلَوْنُ بِالْأَصْفَرِ الْكُرَّةَ الَّتِي وَرَاءَ الْوَلَدِ وَ بِالْأَحْمَرِ الَّتِي أَمَامَهُ.



الوضعية الإدماجية: أَلَاظِ الْجَدُولَ وَأَكْمِلْ بِمَا يُنَاسِبُ.

			
<input type="radio"/>	<input type="radio"/>	<input type="radio"/>	<input type="radio"/>

أَلَوْنُ الْإِجَابَةِ الصَّحِيحَةِ:

مِنْ حَبَّاتِ الْإِجَاصِ.

أَكْثَرُ مِنْ

أَقَلَّ مِنْ

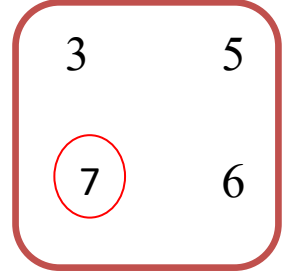
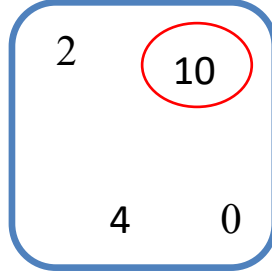
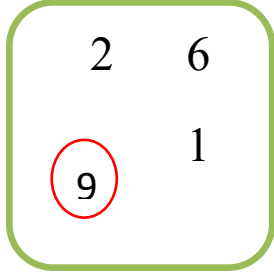
• عَدَدُ حَبَّاتِ التُّفَاحِ





تصحيح الفرض الأول في مادة الرياضيات

التمرين 01 : أحيطُ أكبرَ عددٍ في كُلِّ مَجْمُوعَةٍ :



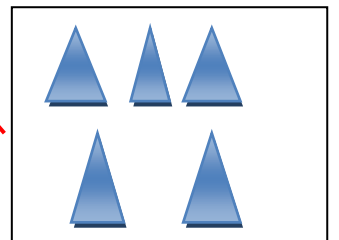

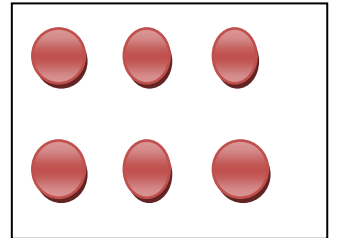
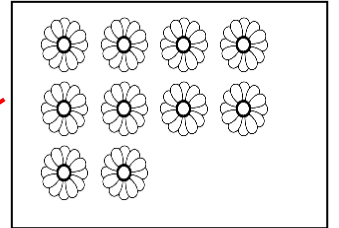
التمرين 02 : أَعِدُّ ثُمَّ أَصِلْ مَعَ مَا يُنَاسِبُ .

5

8

10





6



التمرين 03: أَلَوْنُ بِالْأَصْفَرِ الْكُرَّةَ الَّتِي وَرَاءَ الْوَلَدِ وَ بِالْأَحْمَرِ الَّتِي أَمَامَهُ.



الوضعية الإدماجية: أَلَحِظْ الْجَدُولَ وَأَكْمِلْ بِمَا يُنَاسِبُ.

			
4	10	6	2

أَلَوْنُ الْإِجَابَةِ الصَّحِيحَةِ:

• عَدَدُ حَبَّاتِ التُّفَاحِ

أَكْثَرُ مِنْ

أَقَلَّ مِنْ

مِنْ حَبَّاتِ الْإِجَاصِ.

